

アルゴリズム論 Theory of Algorithms

第6回講義 線形計画法

アルゴリズム論 Theory of Algorithms

Lecture #6

Linear Programming

線形計画問題と線形計画法

入力: 線形不等式と線形の目的関数

出力: すべての線形不等式を満たす解があるかどうかを判定し, 解が存在する場合には, さらに目的関数を最大(または最小)にする解を求める.

n : 変数の個数,

m : 線形不等式の形で与えられる制約式の個数

各制約式は n 個の変数の線形不等式の形で与えられるから, それぞれが n 次元空間の半空間に対応している.

したがって, m 個の半空間の共通部分が存在するかどうかを判定し, 存在するなら, その頂点の中で目的関数の値を最大(または最小)にするものを求めればよい.

実行可能領域: m 個の半空間の共通部分

線形計画問題は n と m に関する多項式時間で解けることが知られている.

Linear Program and Linear Programming

Input: Linear inequalities and linear objective function

Output: Determine whether there is a solution satisfying all the linear inequalities, and if there exists, find a solution to maximize (or minimize) the objective function.

n: number of variables,

m: number of constraints given as linear inequalities

Since constraints are given as linear inequalities on n variables, they correspond to half spaces in the n -dimensional space.

Thus, it suffices to determine whether m half spaces have their intersection, and if it exists, to find a vertex at which the objective function is maximum(or minimum).

Feasible region: intersection of m half spaces

It is known that Linear Program can be solved in polynomial time in n and m .

2変数の線形計画問題

2次元平面における半平面の共通部分が実行可能領域
必ず凸多角形になる.

3変数の線形計画問題

3次元空間における半空間の共通部分が実行可能領域
必ず凸多面体になる.

線形計画問題の一般形

目的関数: $c_1x_1 + c_2x_2 + \dots + c_nx_n \rightarrow \min$

ただし, c_1, c_2, \dots, c_n は与えられた定数

制約式:

不等式制約 $a_{11}x_1 + a_{12}x_2 + \dots + a_{1n}x_n \leq b_1$

.....

$a_{k1}x_1 + a_{k2}x_2 + \dots + a_{kn}x_n \leq b_k$

等式制約

$a_{k+1,1}x_1 + a_{k+1,2}x_2 + \dots + a_{k+1,n}x_n = b_{k+1}$

.....

$a_{m1}x_1 + a_{m2}x_2 + \dots + a_{mn}x_n = b_m$

2-variable linear program

Feasible region is intersection of half planes in the plane, which is always a convex polygon.

3-variable linear program

Feasible region is intersection of half spaces in the space, which is always a convex polyhedron.

General form of Linear Program

Objective function: $c_1x_1 + c_2x_2 + \dots + c_nx_n \rightarrow \min$

Here, c_1, c_2, \dots, c_n are given constants.

Constraints:

Inequalities $a_{11}x_1 + a_{12}x_2 + \dots + a_{1n}x_n \leq b_1$

.....

$$a_{k1}x_1 + a_{k2}x_2 + \dots + a_{kn}x_n \leq b_k$$

Equalities $a_{k+1,1}x_1 + a_{k+1,2}x_2 + \dots + a_{k+1,n}x_n = b_{k+1}$

.....

$$a_{m1}x_1 + a_{m2}x_2 + \dots + a_{mn}x_n = b_m$$

問題P16:2種類の原材料AとBにより2種類の製品P₁とP₂を製造する場合, どのような生産計画を立てれば利益最大にできるか?

製品を1単位製造するのに必要な原材料の量

製品P₁では, Aを2, Bを4単位分だけ必要

製品P₂では, Aを3, Bを5単位分だけ必要

原材料の在庫は, Aが5単位, Bが9単位分

利益率: 製品P₁は1単位当たり3万円, 製品P₂は4万円



製品P₁の生産量を x_1 , 製品P₂の生産量を x_2 とすると,
全体の利益は

$3x_1 + 4x_2$ (最大化すべき) 目的関数

で与えられる. 一方, 制約は

$2x_1 + 3x_2 \leq 5$ 在庫量の関係

$4x_1 + 5x_2 \leq 9$ 在庫量の関係

$x_1 \geq 0, x_2 \geq 0$ 生産量は非負

となる.

Problem P16: Suppose 2 products P_1 and P_2 are made from 2 materials A and B. How can we maximize the profit?

Quantity required to make one unit of products

For products P_1 , 2 units of A and 4 units of B are required.

For products P_2 , 3 units of A and 5 units of B are required.

5 units of A and 9 units of B are available.

Profit: 30,000 yen per unit for product P_1 , 40,000 yen for P_2



Let x_1 and x_2 be quantities of P_1 and P_2 . Then, the profit is given by

$3x_1 + 4x_2$ objective function (to be maximized)

On the other hand, constraints are

$2x_1 + 3x_2 \leq 5$ constraints on quantities available

$4x_1 + 5x_2 \leq 9$ constraints on quantities available

$x_1 \geq 0, x_2 \geq 0$ quantities are not negative.

線形計画問題

目的関数: $3x_1 + 4x_2 \rightarrow \text{最大}$

制約条件:

$$2x_1 + 3x_2 \leq 5$$

$$4x_1 + 5x_2 \leq 9$$

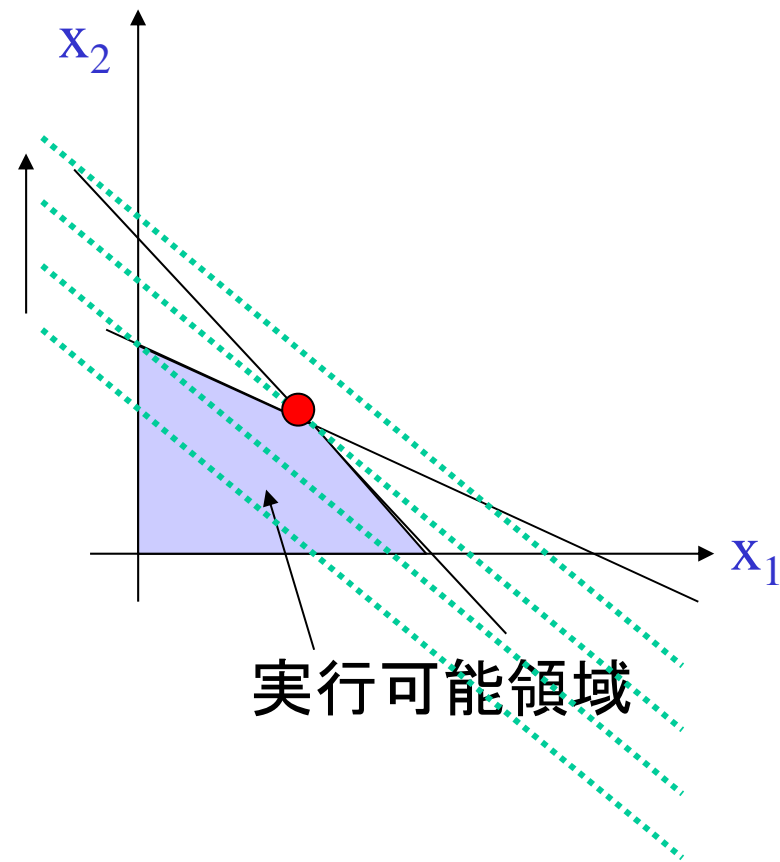
$$x_1 \geq 0, x_2 \geq 0$$

目的関数 $3x_1 + 4x_2 = k$

\rightarrow 直線 $x_2 = -(3/4)x_1 + k/4$

2つの制約式に対応する直線の
交点は(1, 1).

つまり, 製品 P_1 を1単位, 製品 P_2 も
1単位だけ製造するのが最適.



演習問題E7-1: 上の例において, 他に2個の変数 x_3, x_4 を導入して, 不等式制約をすべて線形等式制約と変数 ≥ 0 の形式に変更する方法を考えよ.

Linear Program

Objective function: $3x_1 + 4x_2 \rightarrow \max$

Constraints:

$$2x_1 + 3x_2 \leq 5$$

$$4x_1 + 5x_2 \leq 9$$

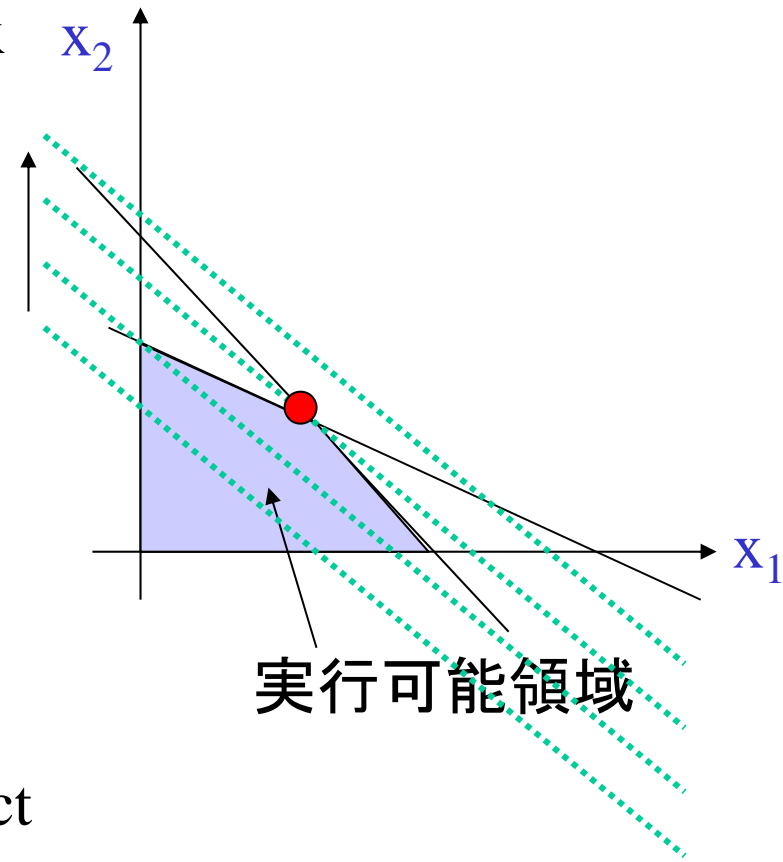
$$x_1 \geq 0, x_2 \geq 0$$

Objective function $3x_1 + 4x_2 = k$

\rightarrow Line $x_2 = -(3/4)x_1 + k/4$

Intersection of lines corresponding to two constraints is (1,1).

That is, producing one unit of product P_1 and one unit of product P_2 is the best.



Exercise E7-1: Change the above constraints into constraints by linear equalities and those of the form variable ≥ 0 by introducing two variables x_3 and x_4 .

線形計画問題の解法

n 個の変数で定義される線形計画問題

→ n 次元空間において制約式に対応する半空間によって定義される凸多面体の頂点の中で目的関数の値を最適化するものを求める問題.

ただし, 凸多面体の頂点をすべて列挙すれば指数時間かかる.

シンプレックス法 (Dantzig, 1947年)

凸多面体の1つの頂点から出発して, その隣接頂点の中で目的関数の値が改善される頂点に移動するという操作を繰り返し, 移動できなくなったときに, その頂点を最適解とする.

シンプレックス法で必ず最適解が求まる.

∵ 凸多面体の性質から, 局所的にだけ最適という場所はない.
目的関数を改善する方向にだけ移動すれば, 必ず最適解に到達する.

Algorithm for Linear Program

Linear Program defined by n variables

→ the problem of finding a vertex among those vertices of a convex polyhedron corresponding to constraints in the n -dim space at which the objective function is optimized.

Here, notice that if we enumerate all the vertices then it takes exponential time.

Simplex Algorithm (Dantzig, 1947)

Starting from a vertex of a convex polyhedron, we repeat an operation of visiting a vertex among its adjacent ones to improve the value of the objective function. When we cannot move anymore, we are at an optimal vertex.

Simplex Algorithm always finds an optimal solution.

∴ Due to the property of a convex polyhedron, there is no vertex that is only locally optimal. If we move only in the direction of improving the objective function, it always reaches an optimal solution.

シンプレックス法の効率

最悪の場合には指数時間を必要とする。
しかし、実用的には効率は良い。

線形計画問題は多項式時間で解けるか？

Khachiyan(1979)の結果

$O(nm^3L)$ 時間の楕円体法(ellipsoid algorithm)

n: 変数の個数, m: 制約式の個数

L: 係数を指定するのに使われる最大のビット数

Karmarker(1984)の内点法(interior method)

$O(nm^{2.5}L \log L)$ 時間のアルゴリズム

ATTがアルゴリズム特許を申請したことで有名

MirzaianのDPA(Deepest Peak Algorithm)

計算時間は $O(m^3n^2)$ と主張しているが、真偽は不明

Megiddo(1984), Clarkson(1986), Dyer(1986)は

変数の個数に関しては指数時間かかるが、

制約式の個数に関しては線形のアルゴリズムを提案

Efficiency of Simplex Algorithm

It takes exponential time in the worst case. However, it is efficient in practice.

Can Linear Programs be solved in polynomial time?

Khachiyan's result (1979)

Ellipsoid algorithm: $O(nm^3L)$ time

n: number of variables, m: number of constraints

L: maximum number of bits used to specify coefficients

Karmarkar's interior method (1984)

$O(nm^{2.5}L \log L)$ time algorithm

Famous for the application of algorithm patent by AT&T

Mirzaian's DPA (Deepest Peak Algorithm)

He claims $O(m^3n^2)$ time, but the truth is not known.

Megiddo(1984), Clarkson(1986), Dyer(1986):

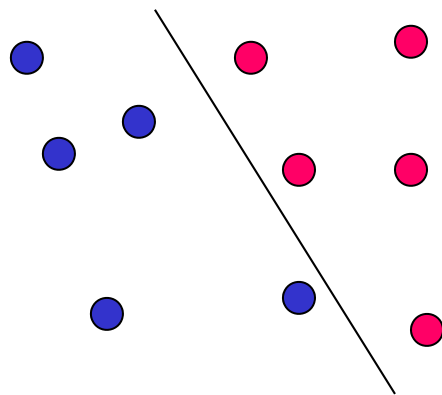
They propose algorithms which take time exponential in the number of variables but linear in that of constraints.

線形計画問題として定式化できる問題

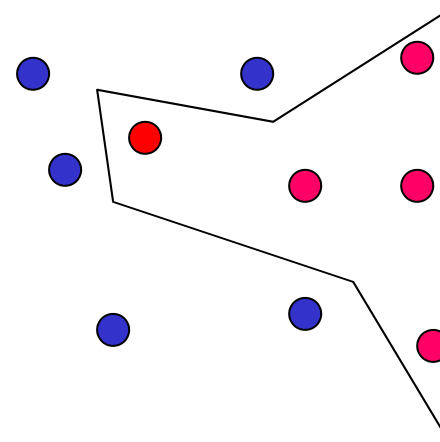
問題P17: (線形分離可能性問題)

n 次元空間に2つの点集合が与えられたとき, それらを分離する超平面が存在するかどうかを判定せよ.

2次元平面では, 2つの点集合を分離する直線が存在するかどうかを判定する問題となる.



線形分離可能



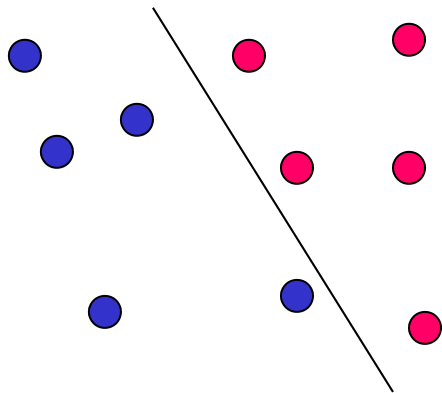
線形分離不可能

Problems formulated as Linear Programs

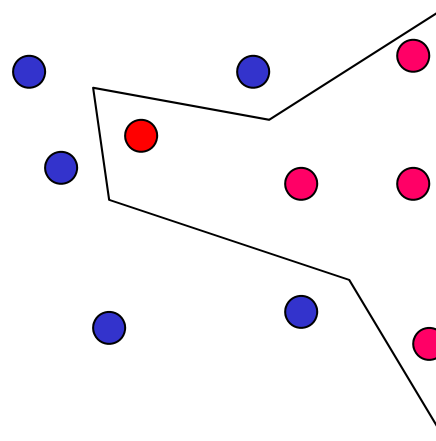
Problem P17: (Linear Separability)

Given two sets of points in the n -dim. space, determine whether there exists a hyperplane separating them.

In the 2-dim. plane, the problem is to determine whether there exists a line separating two sets of points.

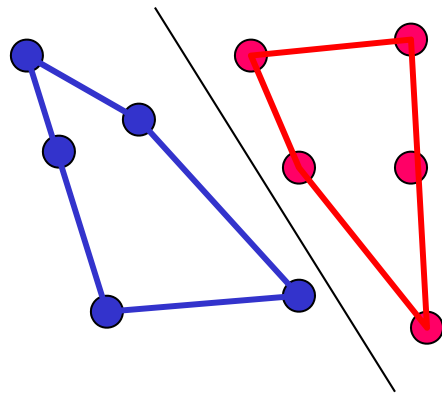


linearly separable

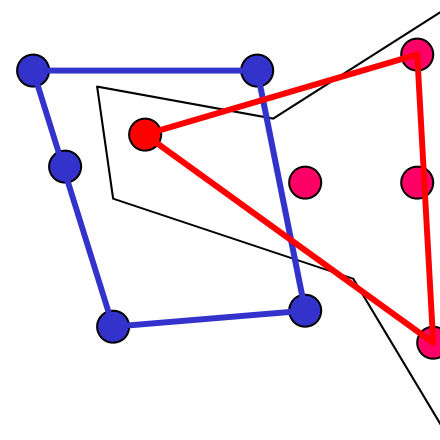


linearly nonseparable

2次元平面の場合, 2つの点集合が線形分離可能であるのはそれぞれの点集合に対する凸包(最小包含凸多角形)が互いに共通部分を持たないことである.



線形分離可能



線形分離不可能

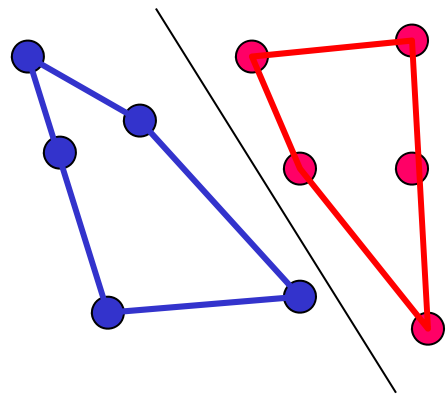
アルゴリズムP17-A0:

- (1) 2つの点集合RとBを入力する. ただし, $n=|R|+|B|$.
- (2) 各点集合に対する凸包 $CH(R)$ と $CH(B)$ を求める.
- (3) $CH(R)$ と $CH(B)$ に共通部分があるかどうかを判定.

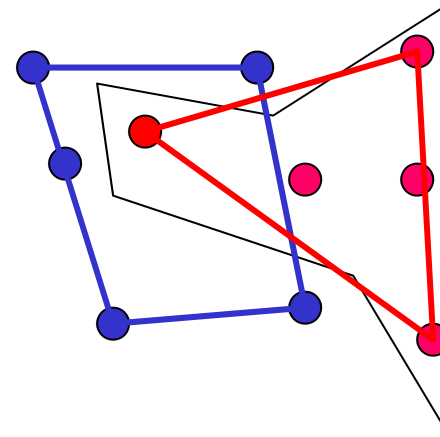
もし共通部分があれば, 解はないと出力.

そうでなければ, 共通内接線を求めて, 分離直線として出力.

In the 2-dim. plane, two sets of points are separable if their associated convex hulls (the smallest convex polygons containing them) have no intersection.



Linearly separable



Linearly nonseparable

Algorithm P17-A0:

- (1) Input two sets R and B of points, where $n=|R|+|B|$.
- (2) Construct convex hulls $CH(R)$ and $CH(B)$ for these sets of points.
- (3) Determine whether $CH(R)$ and $CH(B)$ have intersection.

If there is any intersection, report that there is no solution.

Otherwise, find common inner tangents and report them as separating lines.

アルゴリズムP17-A0:

- (1) 2つの点集合RとBを入力する. ただし, $n=|R|+|B|$.
- (2) 各点集合に対する凸包 $CH(R)$ と $CH(B)$ を求める.
- (3) $CH(R)$ と $CH(B)$ に共通部分があるかどうかを判定.
もし共通部分があれば, 解はないと出力.
そうでなければ, 共通内接線を求めて, 分離直線として出力.

アルゴリズムP17-A0の計算時間:

- (1) は入力だけなので, $O(n)$ 時間.
 - (2) の凸包計算は $O(n \log n)$ 時間.
 - (3) の共通部分の計算と共通内接線の計算は $O(n)$ 時間.
- 全体では $O(n \log n)$ 時間となる.

演習問題E7-2: 点集合RとBのサイズをそれぞれ n, m とするととき, 全体の計算時間を n と m を用いて表現せよ. n と m の値が大きく異なるとき, 別の考え方ができるか?

もっと効率よく解くことは可能か?

Algorithm P17-A0:

- (1) Input two point sets R and B , where $n=|R|+|B|$.
- (2) Construct convex hulls $CH(R)$ and $CH(B)$ for these sets of points.
- (3) Determine whether $CH(R)$ and $CH(B)$ have intersection.
If there is any intersection, report that there is no solution.
Otherwise, find common inner tangents and report them as separating lines.

Computation time of Algorithm P17-A0:

- (1) takes $O(n)$ time since it is only for input.
- (2) takes $O(n \log n)$ time for convex hulls.
- (3) takes $O(n)$ time to compute intersection and inner tangent lines.

In total, it takes $O(n \log n)$ time.

Exercise E7-2: Let n and m be sizes of sets R and B . Represent the total computation time using n and m . If there is big difference between n and m , is there any other idea?

Is there more efficient algorithm?

線形計画法に基づくアルゴリズムP17-A1

入力の集合を

$R = \{(x_1, y_1), \dots, (x_k, y_k)\}$, $B = \{(x_{k+1}, y_{k+1}), \dots, (x_n, y_n)\}$
とする. もしRとBを分離する直線 $y = ax + b$ が存在するなら,

$$y_i \leq ax_i + b, i=1, \dots, k,$$

$$y_i \geq ax_i + b, i=k+1, \dots, n$$

または, $y_i \geq ax_i + b, i=1, \dots, k,$

$$y_i \leq ax_i + b, i=k+1, \dots, n$$

が成り立つはずである.

逆に, $b \geq -ax_i + y_i, i=1, \dots, k,$

$$b \leq -ax_i + y_i, i=k+1, \dots, n$$

または, $b \leq -ax_i + y_i, i=1, \dots, k,$

$$b \geq -ax_i + y_i, i=k+1, \dots, n$$

を満たす (a, b) の値が存在すれば, RとBは線形分離可能.

これは, 2変数 a, b に関する線形計画問題であるから,

$O(n)$ 時間で解ける.

Algorithm P17-A1 based on Linear Programming

Let input point sets be

$$R = \{(x_1, y_1), \dots, (x_k, y_k)\}, \text{ and } B = \{(x_{k+1}, y_{k+1}), \dots, (x_n, y_n)\}.$$

If there is a line separating R and B, then we must have

$$y_i \leq ax_i + b, i=1, \dots, k,$$

$$y_i \geq ax_i + b, i=k+1, \dots, n$$

or
$$y_i \geq ax_i + b, i=1, \dots, k,$$

$$y_i \leq ax_i + b, i=k+1, \dots, n.$$

Conversely, if there is (a, b) satisfying

$$b \geq -ax_i + y_i, i=1, \dots, k,$$

$$b \leq -ax_i + y_i, i=k+1, \dots, n$$

or
$$b \leq -ax_i + y_i, i=1, \dots, k,$$

$$b \geq -ax_i + y_i, i=k+1, \dots, n$$

then R and B are linearly separable.

This is a linear program for two variables, and thus it can be solved in $O(n)$ time.

例: $R=\{(1,2), (2,1), (3,1)\}$, $B=\{(2,2), (3,3)\}$ のとき,

線形計画問題1:

$$b \geq -1*a + 2,$$

$$b \geq -2*a + 1,$$

$$b \geq -3*a + 1,$$

$$b \leq -2*a + 2,$$

$$b \leq -3*a + 3$$

線形計画問題2:

$$b \leq -1*a + 2,$$

$$b \leq -2*a + 1,$$

$$b \leq -3*a + 1,$$

$$b \geq -2*a + 2,$$

$$b \geq -3*a + 3$$

演習問題E7-3: 実際には実行可能領域を図示することにより,
どちらの線形計画問題が実行可能解をもつかを判断せよ.

レポート課題にします

Example: Suppose $R=\{(1,2), (2,1), (3,1)\}$ and $B=\{(2,2), (3,3)\}$.

Linear Program 1 :

$$b \geq -1*a + 2,$$

$$b \geq -2*a + 1,$$

$$b \geq -3*a + 1,$$

$$b \leq -2*a + 2,$$

$$b \leq -3*a + 3$$

Linear Program 2 :

$$b \leq -1*a + 2,$$

$$b \leq -2*a + 1,$$

$$b \leq -3*a + 1,$$

$$b \geq -2*a + 2,$$

$$b \geq -3*a + 3$$

Exercise E7-3: Determine which linear program has a feasible solution by drawing feasible regions in practice.

最短経路問題

問題P18: 辺に正の重みをもつグラフ $G=(V, E, c)$ と2頂点 s, t が与えられたとき, s から t への最小重み経路(最短経路)を求めよ.

この問題はダイクストラ法として知られる有名なアルゴリズムを用いて効率よく解けることが知られているが, 線形計画問題としても定式化できる.

用意すべき変数: $d_i =$ 頂点 s から頂点 v_i への最短経路の長さ.
辺 (v_i, v_j) の長さ(重み)を $c(v_i, v_j)$ と表す.

このとき, 制約式は

$$d_1 = 0 \quad (s = v_1 \text{ とする})$$

$$d_j \leq d_i + c(v_i, v_j) \quad \text{すべての辺}(v_i, v_j)\text{について,}$$

ただし, v_j は s とは異なること.

目的関数は

$$\max d_n \quad \text{ただし, } v_n = t \text{ とする.}$$

多項式時間では解けるものの, 変数の数が多いのでダイクストラ法の方が効率が良い.

Shortest Path Problem

Problem P18: Given a weighted graph $G=(V,E,c)$ and two vertices s and t , find a shortest (minimum-weight) path from s to t .

It is known that this problem can be solved by a famous Dijkstra's algorithm. It is also formulated as a linear program.

Variables to be prepared:

d_i = length of a shortest path from s to a vertex v_i .

The length (weight) of an edge (v_i, v_j) is denoted by $c(v_i, v_j)$.

Then, the constraints become as follows:

$$d_1=0 \quad (\text{with } s=v_1)$$

$$d_j \leq d_i + c(v_i, v_j) \quad \text{for each edge } (v_i, v_j),$$

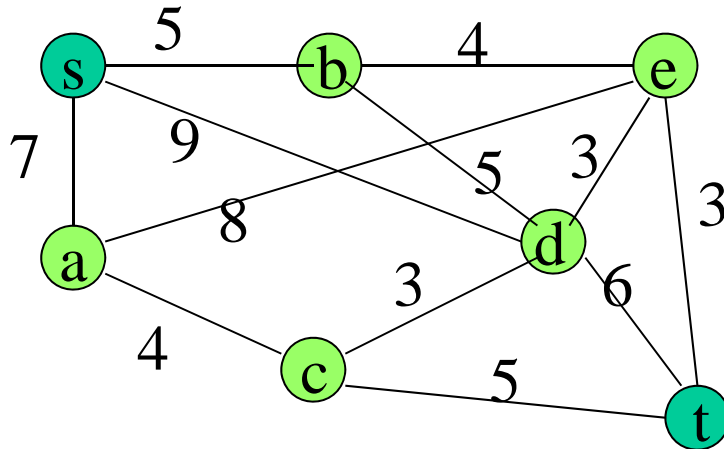
where v_j must be different from s .

Objective function becomes

$$\max d_n \quad \text{where } v_n=t.$$

It can be solve in polynomial time, but Dijkstra's algorithm is more efficient since it has many variables.

演習問題 E7-4: 下記のグラフに対応する線形計画問題を実際に書き下せ.



(s, a, b, c, d, e, t)
 = (v₁, v₂, v₃, v₄, v₅, v₆, v₇)
 と番号付けること.

$$d_1 = 0,$$

$$d_2 \leq d_1 + 7,$$

$$d_2 \leq d_6 + 8,$$

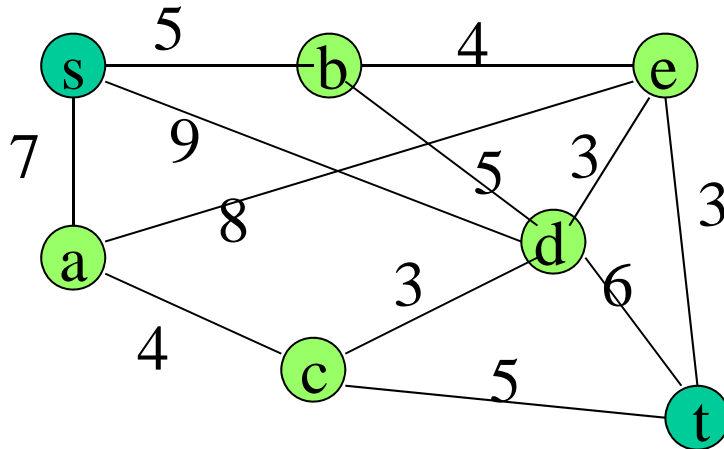
$$d_2 \leq d_4 + 4,$$

$$d_3 \leq d_1 + 5,$$

$$d_3 \leq d_5 + 5,$$

.....

Exercise E7-4: Write a linear program corresponding to the graph shown below.



Assume numbering:
 (s, a, b, c, d, e, t)
 = $(v_1, v_2, v_3, v_4, v_5, v_6, v_7)$

$$d_1 = 0,$$

$$d_2 \leq d_1 + 7,$$

$$d_2 \leq d_6 + 8,$$

$$d_2 \leq d_4 + 4,$$

$$d_3 \leq d_1 + 5,$$

$$d_3 \leq d_5 + 5,$$

.....

整数計画問題

正確には整数線形計画問題.

制約式と目的関数が線形式でなければならない点は線形計画問題と同じであるが、変数の値を整数に限定したもの.

様々な問題を整数計画問題として定式化できるという意味で非常に強力な方法であるが、残念ながら多項式時間のアルゴリズムは知られていない.

制約式と目的関数の係数は任意であるが、変数の値を0か1に限定したものを0-1整数計画問題と呼ぶが、0-1整数計画問題ですらNP完全であることが知られている.

Integer Program

Exactly, Integer Linear Program.

Constraints and objective function must be linear as in Linear Program, but variables must take integral values.

It is a very powerful scheme in the sense that various problems can be formulated as Integer Programs, but no polynomial time algorithm is known.

It is called a 0-1 Integer Program if we may be arbitrary number of constraints and any coefficients in an objective function, but values of variable are restricted to 0 or 1. It is known that even the 0-1 Integer Program is NP-complete. .

整数計画問題として定式化できる問題

n 個の論理変数を (x_1, x_2, \dots, x_n) とする.

論理変数 x_n またはその否定 $\neg x_n$ をリテラルという.

3個のリテラルをOR \vee で結んだものを節という.

節をAND \wedge で結んだものを3SAT式という.

$$F(x_1, x_2, x_3)$$

$$= (x_1 \vee \neg x_2 \vee x_3) \wedge (\neg x_1 \vee x_2 \vee \neg x_3) \wedge (\neg x_1 \vee x_2 \vee x_3)$$

真理値割り当て: 各論理変数に真理値(0または1)を割り当てること
上の例で,

$$F(0,1,1) = (0 \vee \neg 1 \vee 1) \wedge (\neg 0 \vee 1 \vee \neg 1) \wedge (\neg 0 \vee 1 \vee 1) = 1$$

$$F(1,0,1) = (1 \vee \neg 0 \vee 1) \wedge (\neg 1 \vee 0 \vee \neg 1) \wedge (\neg 1 \vee 0 \vee 1) = 0$$

であるから, $(0,1,1)$ という真理値割り当ては上式を充足するが,
 $(1,0,1)$ は充足しない. 充足する真理値割り当てが存在するような
3SAT式は充足可能であるという.

Problems formulated as Integre Programs

Let n logical variables be (x_1, x_2, \dots, x_n) .

Logical variable x_n or its negation $\neg x_n$ is called a literal.

A clause is a connection of three literals by OR \vee .

3SAT expression is a combination of clauses by AND \wedge .

$$F(x_1, x_2, x_3)$$

$$= (x_1 \vee \neg x_2 \vee x_3) \wedge (\neg x_1 \vee x_2 \vee \neg x_3) \wedge (\neg x_1 \vee x_2 \vee x_3)$$

Truth assignment: assignment of truth value (0 or 1) to each variable.

In the above example, we have

$$F(0,1,1) = (0 \vee \neg 1 \vee 1) \wedge (\neg 0 \vee 1 \vee \neg 1) \wedge (\neg 0 \vee 1 \vee 1) = 1,$$

$$F(1,0,1) = (1 \vee \neg 0 \vee 1) \wedge (\neg 1 \vee 0 \vee \neg 1) \wedge (\neg 1 \vee 0 \vee 1) = 0,$$

and so the truth assignment $(0,1,1)$ satisfies the expression, but

$(1,0,1)$ does not.

A 3SAT expression is called satisfiable if there is a truth assignment satisfying it.

問題P19: (充足可能性問題3SAT)

n個の変数とm個の節からなる3SATの式が与えられたとき、それが充足可能かどうかを判定し、充足可能なら、式を充足する真理値割り当てを求めよ。

この問題は代表的なNP完全問題である。

整数計画問題としての定式化

各論理変数の値を整数値0, 1に限定する制約式

$$0 \leq x_i \leq 1, \text{ integer } x_i, i=1, 2, \dots, n$$

論理変数 x_i の否定 $\neg x_i$ は $1-x_i$ と表現する。

各節に関する制約式

$$(x_1 \vee \neg x_2 \vee x_3) \Rightarrow x_1 + (1-x_2) + x_3 \geq 1$$

後は各節に対応する制約式をANDの形で並べればよい。

$$(x_1 \vee \neg x_2 \vee x_3) \wedge (\neg x_1 \vee x_2 \vee \neg x_3) \wedge (\neg x_1 \vee x_2 \vee x_3) \Rightarrow$$

$$(x_1 \vee \neg x_2 \vee x_3) \Rightarrow x_1 + (1-x_2) + x_3 \geq 1,$$

$$(\neg x_1 \vee x_2 \vee \neg x_3) \Rightarrow (1-x_1) + x_2 + (1-x_3) \geq 1,$$

$$(\neg x_1 \vee x_2 \vee x_3) \Rightarrow (1-x_1) + x_2 + x_3 \geq 1.$$

Problem P19: (3SAT: 3-Satisfiability Problem)

Given a 3SAT expression consisting of n variables and m clauses, determine whether it is satisfiable or not, and find a truth assignment satisfying it if it is.

This problem is a typical NP-complete problem.

Formulation as an Integer Linear Program

Constraints for logical variables to take only 0 or 1

$$0 \leq x_i \leq 1, \text{ integer } x_i, i=1, 2, \dots, n$$

Represent the negation $\neg x_i$ of variable x_i as $1-x_i$.

Constraint associated with each clause

$$(x_1 \vee \neg x_2 \vee x_3) \Rightarrow x_1 + (1-x_2) + x_3 \geq 1$$

Then, constraints for clauses are connected by putting AND

$$(x_1 \vee \neg x_2 \vee x_3) \wedge (\neg x_1 \vee x_2 \vee \neg x_3) \wedge (\neg x_1 \vee x_2 \vee x_3) \Rightarrow$$

$$(x_1 \vee \neg x_2 \vee x_3) \Rightarrow x_1 + (1-x_2) + x_3 \geq 1,$$

$$(\neg x_1 \vee x_2 \vee \neg x_3) \Rightarrow (1-x_1) + x_2 + (1-x_3) \geq 1,$$

$$(\neg x_1 \vee x_2 \vee x_3) \Rightarrow (1-x_1) + x_2 + x_3 \geq 1.$$